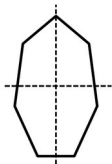
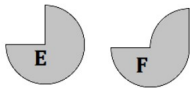


### Série 1

- (1) 1 année non bissextile = ... j
- (2) Les droites tracées semblent-elles être des axes de symétrie ?



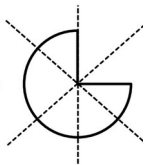
- (3) Donner un diviseur de 8 et de 18.
- (4) Quelle figure semble avoir la plus grande aire ?



## Série 2

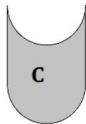
(1) 1 jour = ... h

(2) Les droites tracées semblent-elles être des axes de symétrie ?



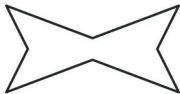
(3) Donner un diviseur de 6 et de 21.

(4) Quelle figure semble avoir la plus grande aire ?



(1) 1 min = ... h

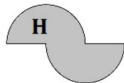
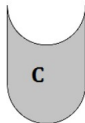
(2) Combien d'axes de symétrie  
apparents ?



### Série 3

(3) Donner un diviseur de 15 et de  
40.

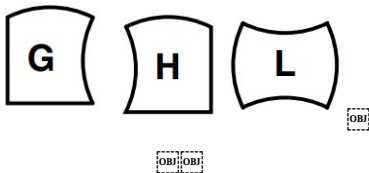
(4) Quelle figure semble avoir la  
plus grande aire ?



### Série 4

- (1) 1 année bissextile = ... j
- (2) Combien d'axes de symétrie possède un carré ?

- (3) Donner un diviseur de 8 et de 12.
- (4) Quelle figure semble avoir la plus grande aire ?



## Automatismes 25

### Série 1

(1) 365 j

(2) Non (que le vertical)

(3) 2 et 1

(4) Elles ont la même aire

### Série 2

(1) 24 h

(2) Non

(3) 3 et 1

(4) Elles ont la même aire

### Série 3

(1)  $\frac{1}{60}$  h

(2) 2

(3) 5 et 1

(4) La figure C

### Série 4

(1) 366 j

(2) 4

(3) 2, 4 et 1

(4) Elles ont la même aire