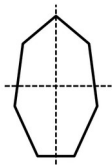
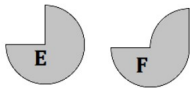


Série 1

- (1) 1 année non bissextile = ... j
- (2) Les droites tracées semblent-elles être des axes de symétrie ?



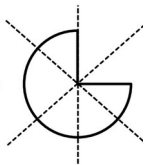
- (3) Donner un diviseur de 8 et de 18.
- (4) Quelle figure semble avoir la plus grande aire ?



Série 2

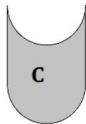
(1) 1 jour = ... h

(2) Les droites tracées semblent-elles être des axes de symétrie ?



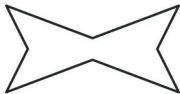
(3) Donner un diviseur de 6 et de 21.

(4) Quelle figure semble avoir la plus grande aire ?



(1) 1 min = ... h

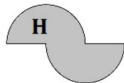
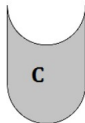
(2) Combien d'axes de symétrie
apparents ?



Série 3

(3) Donner un diviseur de 15 et de
40.

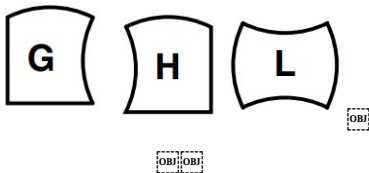
(4) Quelle figure semble avoir la
plus grande aire ?



Série 4

- (1) 1 année bissextile = ... j
- (2) Combien d'axes de symétrie possède un carré ?

- (3) Donner un diviseur de 8 et de 12.
- (4) Quelle figure semble avoir la plus grande aire ?



Automatismes 25

Série 1

(1) 365 j

(2) Seulement la droite
verticale

(3) 1 et 2

(4) Elles ont la même aire

Série 2

(1) 24h

(2) Une seule

(3) 1 et 3

(4) Elles ont la même aire

Série 3

(1) $\frac{1}{60}$ h

(2) Deux

(3) 5 et 1

(4) La figure C

Série 4

(1) 366 j

(2) 4

(3) 4, 1 et 2

(4) Elles ont la même aire